




## Zwei Würfel



(1) Schätzen Sie die Wahrscheinlichkeiten für die Augenzahlen beider Würfel.

(2) Versuchen Sie Ihre Schätzung zu verbessern

	Augenzahl	1	2	3	4	5	6
	Schätzung						
	Wahrscheinlichkeit						

	Augenzahl	1	2	3	4	5	6
	Schätzung						
	Wahrscheinlichkeit						

### Aufgaben:

1. Bearbeitet die Aufgaben oben kurz.
2. Reflektiert die einzelnen Arbeitsvorschläge stetig bezogen auf:
  - Eignung für die Schule,
  - Zentrale Konzepte, die angesprochen werden,
  - Aspekte des statistischen Denkens, die angesprochen werden,
  - Mögliche Anschlussaufgaben.